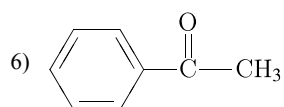
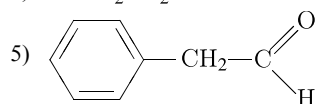
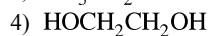
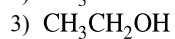
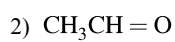
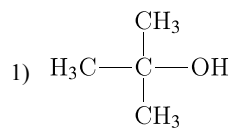


Установите соответствие между названием вещества и продуктом, который преимущественно образуется при взаимодействии этого вещества с водой: к каждой позиции, обозначенной буквой, подберите соответствующую позицию, обозначенную цифрой.

НАЗВАНИЕ ВЕЩЕСТВА

- А) этилен;
- Б) ацетилен;
- В) 2-метилпропен;
- Г) фенилацетилен.

ПРОДУКТ РЕАКЦИИ



Запишите в ответ цифры, расположив их в порядке, соответствующем буквам.

А	Б	В	Г