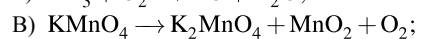
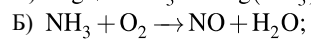
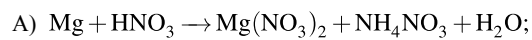


Установите соответствие между схемой окислительно-восстановительной реакции и степенью окисления восстановителя: к каждой позиции, обозначенной буквой, подберите соответствующую позицию, обозначенную цифрой.

## СХЕМА ОВР



## СТЕПЕНЬ ОКИСЛЕНИЯ ВОССТАНОВИТЕЛЯ

1) -3;

2) -2;

3) 0;

4) +4.

Запишите в ответ цифры, расположив их в порядке, соответствующем буквам:

А	Б	В	Г