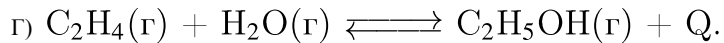
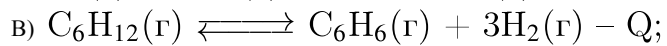
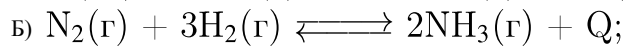
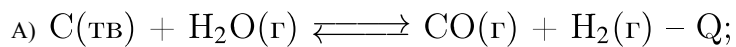


Установите соответствие между уравнением химической реакции и направлением смещения химического равновесия при уменьшении температуры: к каждой позиции, обозначенной буквой, подберите соответствующую позицию, обозначенную цифрой.

## УРАВНЕНИЕ РЕАКЦИИ

НАПРАВЛЕНИЕ СМЕЩЕНИЯ  
РАВНОВЕСИЯ

- 1) смещается в сторону реагентов;
- 2) смещается в сторону продуктов;
- 3) не смещается.

Запишите в ответ цифры, расположив их в порядке, соответствующем буквам:

А	Б	В	Г