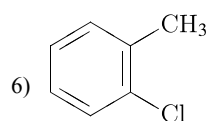
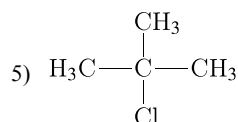
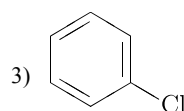
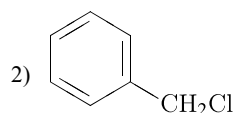
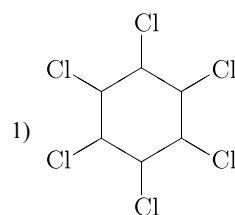


Установите соответствие между названием углеводорода и продуктом, который преимущественно образуется при его взаимодействии с хлором на свету: к каждой позиции, обозначенной буквой, подберите соответствующую позицию, обозначенную цифрой.

## НАЗВАНИЕ ВЕЩЕСТВА

- А) метан;  
 Б) 2-метилпропан;  
 В) бензол;  
 Г) толуол.

## ОРГАНИЧЕСКИЙ ПРОДУКТ РЕАКЦИИ



Запишите в ответ цифры, расположив их в порядке, соответствующем буквам.

| А | Б | В | Г |
|---|---|---|---|
|   |   |   |   |