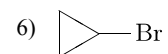
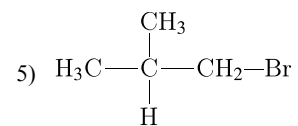
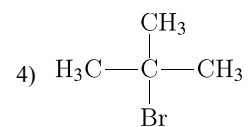
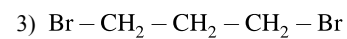
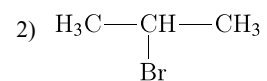
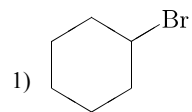


Установите соответствие между названием исходного вещества и продуктом, который преимущественно образуется при взаимодействии этого вещества с бромом: к каждой позиции, обозначенной буквой, подберите соответствующую позицию, обозначенную цифрой.

НАЗВАНИЕ ИСХОДНОГО ВЕЩЕСТВА

- А) пропан;
- Б) циклогексан;
- В) циклопропан;
- Г) изобутан.

ПРОДУКТ БРОМИРОВАНИЯ



Запишите в ответ цифры, расположив их в порядке, соответствующем буквам.

А	Б	В	Г