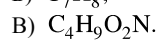
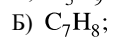
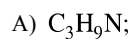


Установите соответствие между формулой вещества и классом (группой) органических соединений, к которому принадлежит вещество: к каждой позиции, обозначенной буквой, подберите соответствующую позицию, обозначенную цифрой.

ФОРМУЛА ВЕЩЕСТВА

КЛАСС (ГРУППА) ОРГАНИЧЕСКИХ
СОЕДИНЕНИЙ

1) амины;

2) арены;

3) алкины;

4) аминокислоты.

Запишите в ответ цифры, расположив их в порядке, соответствующем буквам:

А	Б	В