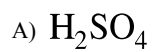


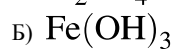
Установите соответствие между формулой вещества и классом неорганических соединений, к которому оно принадлежит.

ФОРМУЛА ВЕЩЕСТВА

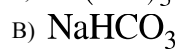
КЛАСС СОЕДИНЕНИЙ



1) соль



2) основание



3) амфотерный гидроксид

4) кислота

Запишите в ответ цифры, расположив их в порядке, соответствующем буквам:

А	Б	В