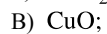
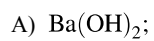
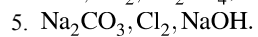
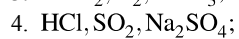
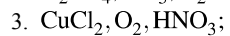
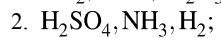


Установите соответствие между формулой вещества и реагентами, с каждым из которых оно может взаимодействовать: к каждой позиции, обозначенной буквой, подберите соответствующую позицию, обозначенную цифрой.

ФОРМУЛА ВЕЩЕСТВА



РЕАГЕНТЫ



Запишите в ответ цифры, расположив их в порядке, соответствующем буквам:

А	Б	В	Г