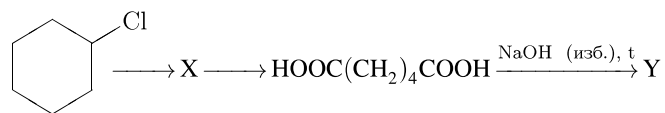

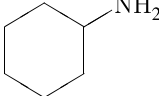



Задана следующая схема превращений веществ:



Определите, какие из указанных веществ являются веществами X и Y:

- 1)  ; 2)  ; 3)  ; 4)  $\text{HO}(\text{CH}_2)_4\text{OH}$ ;  
 5)  $\text{CH}_3\text{CH}_2\text{CH}_2\text{CH}_3$ .

Запишите в таблицу номера выбранных веществ под соответствующими буквами.

X	Y