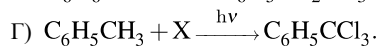
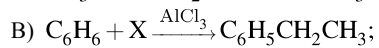
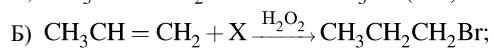
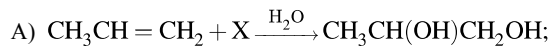


Установите соответствие между схемой реакции и веществом X, принимающим в ней участие: к каждой позиции, обозначенной буквой, подберите соответствующую позицию, обозначенную цифрой.

СХЕМА РЕАКЦИИ



ВЕЩЕСТВО X

- 1) C_2H_4 ;
- 2) KMnO_4 ;
- 3) PCl_5 ;
- 4) HBr ;
- 5) Cl_2 ;
- 6) $\text{Cu}(\text{OH})_2$.

Запишите в таблицу выбранные цифры под соответствующими буквами.

А	Б	В	Г