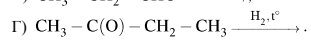
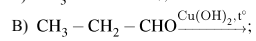
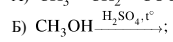
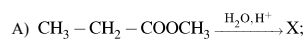


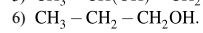
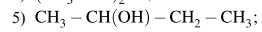
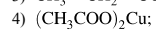
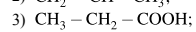
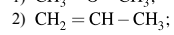
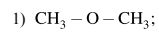
Вариант № 47973

Установите соответствие между схемой реакции и органическим веществом X, преимущественно образующимся в этой реакции: к каждой позиции, обозначенной буквой, подберите соответствующую позицию, обозначенную цифрой.

СХЕМА РЕАКЦИИ



ВЕЩЕСТВО X



Запишите в таблицу выбранные цифры под соответствующими буквами.

А	Б	В	Г