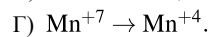
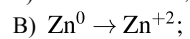
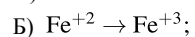
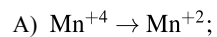
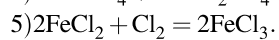
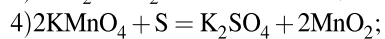
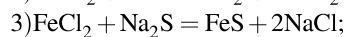
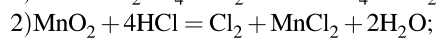
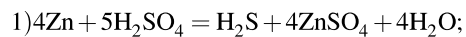


Установите соответствие между изменением степени окисления элемента и уравнением реакции, в которой это изменение происходит: к каждой позиции, обозначенной буквой, подберите соответствующую позицию, обозначенную цифрой.

ИЗМЕНЕНИЕ СТЕПЕНИ ОКИСЛЕНИЯ



УРАВНЕНИЕ РЕАКЦИИ



Запишите в ответ цифры, расположив их в порядке, соответствующем буквам:

А	Б	В	Г