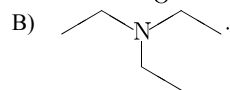
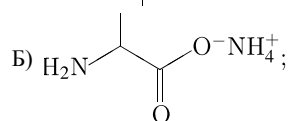
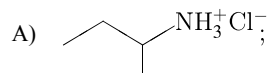


Установите соответствие между структурной формулой вещества и классом/группой органических соединений, к которому(-ой) это вещество принадлежит: к каждой позиции, обозначенной буквой, подберите соответствующую позицию, обозначенную цифрой.

СТРУКТУРНАЯ ФОРМУЛА

КЛАСС/ГРУППА  
ОРГАНИЧЕСКИХ СОЕДИНЕНИЙ



1. амины;
2. соли аминов;
3. аминокислоты;
4. соли аминокислот.

Запишите в ответ цифры, расположив их в порядке, соответствующем буквам:

А	Б	В