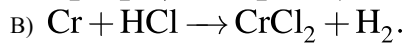
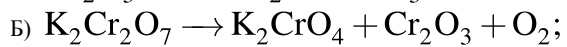
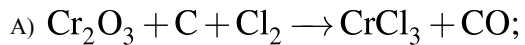


Установите соответствие между схемой реакции и свойством, которое проявляет элемент хром в этой реакции: к каждой позиции, обозначенной буквой, подберите соответствующую позицию, обозначенную цифрой.

СХЕМА РЕАКЦИИ



СВОЙСТВО ХРОМА

- 1) является окислителем;
- 2) является восстановителем;
- 3) является и окислителем, и восстановителем;
- 4) не изменяет степень окисления.

Запишите в ответ цифры, расположив их в порядке, соответствующем буквам:

А	Б	В	Г