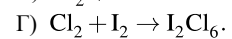
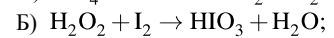
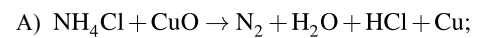
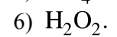
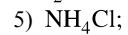
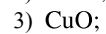


Установите соответствие между схемой реакции и формулой восстановителя в этой реакции: к каждой позиции, обозначенной буквой, подберите соответствующую позицию, обозначенную цифрой.

СХЕМА РЕАКЦИИ



ФОРМУЛА ВОССТАНОВИТЕЛЯ



Запишите в ответ цифры, расположив их в порядке, соответствующем буквам:

А	Б	В	Г