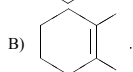
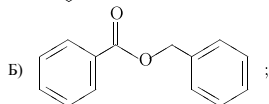
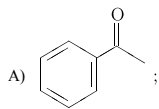


Вариант № 46114

Установите соответствие между структурной формулой вещества и классом/группой органических соединений, к которому(-ой) это вещество принадлежит: к каждой позиции, обозначенной буквой, подберите соответствующую позицию, обозначенную цифрой.

СТРУКТУРНАЯ ФОРМУЛА



КЛАСС/ГРУППА ОРГАНИЧЕСКИХ СОЕДИНЕНИЙ

1. циклоалкены;
2. арены;
3. кетоны;
4. сложные эфиры.

Запишите в ответ цифры, расположив их в порядке, соответствующем буквам:

А	Б	В