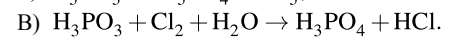
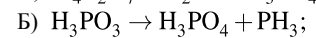
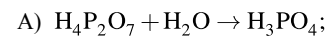


Установите соответствие между схемой реакции и свойством, которое проявляет элемент фосфор в этой реакции: к каждой позиции, обозначенной буквой, подберите соответствующую позицию, обозначенную цифрой.

СХЕМА РЕАКЦИИ



СВОЙСТВО ФОСФОРА

- 1) является окислителем;
- 2) является восстановителем;
- 3) является и окислителем, и восстановителем;
- 4) не изменяет степень окисления.

Запишите в таблицу выбранные цифры под соответствующими буквами.

А	Б	В