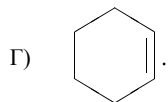
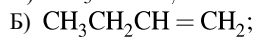
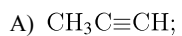
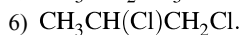
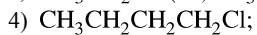
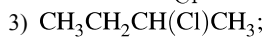
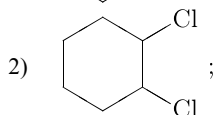
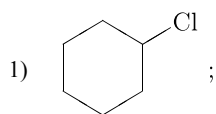


Установите соответствие между углеводородом и продуктом, который преимущественно образуется при взаимодействии этого вещества с избытком хлороводорода: к каждой позиции, обозначенной буквой, подберите соответствующую позицию, обозначенную цифрой.

ИСХОДНОЕ ВЕЩЕСТВО



ПРОДУКТ РЕАКЦИИ



Запишите в ответ цифры, расположив их в порядке, соответствующем буквам:

А	Б	В	Г