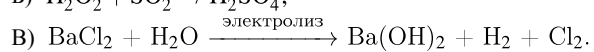
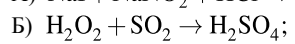
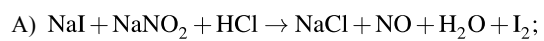


Установите соответствие между схемой окислительно-восстановительной реакции и степенью окисления элемента-окислителя. К каждой позиции, обозначенной буквой, подберите соответствующую позицию, обозначенную цифрой.

СХЕМА РЕАКЦИИ



СТЕПЕНЬ ОКИСЛЕНИЯ ОКИСЛИТЕЛЯ

1) -1;

2) 0;

3) +1;

4) +3.

Запишите в таблицу выбранные цифры под соответствующими буквами.

А	Б	В