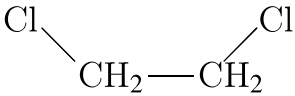
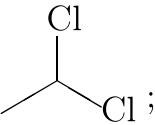


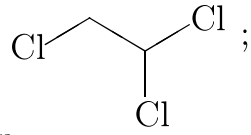
Установите соответствие между названием вещества и продуктом, который преимущественно образуется при взаимодействии этого вещества с ацетиленом. К каждой позиции, обозначенной буквой, подберите соответствующую позицию, обозначенную цифрой.

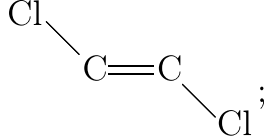
НАЗВАНИЕ ВЕЩЕСТВА  
 А) хлороводород (избыток)  
 Б) хлор (недостаток)  
 В) вода  
 Г) оксид меди(I) (аммиачный раствор)

ПРОДУКТ РЕАКЦИИ

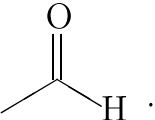
1) 

2) 

3) 

4) 

5)  $\text{CuC}\equiv\text{CCu}$ ;

6) 

Запишите в ответ цифры, расположив их в порядке, соответствующем буквам:

А	Б	В	Г