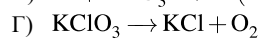
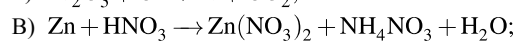
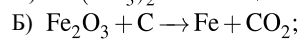
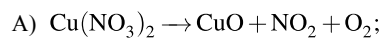


Установите соответствие между схемой окислительно-восстановительной реакции и изменением степени окисления окислителя: к каждой позиции, обозначенной буквой, подберите соответствующую позицию, обозначенную цифрой.

СХЕМА ОВР

ИЗМЕНЕНИЕ СТЕПЕНИ ОКИСЛЕНИЯ
ОКИСЛИТЕЛЯ

1) $0 \rightarrow -2$;

2) $+3 \rightarrow 0$;

3) $+5 \rightarrow -1$;

4) $+5 \rightarrow -3$;

5) $+5 \rightarrow +4$.

Запишите в ответ цифры, расположив их в порядке, соответствующем буквам:

А	Б	В	Г