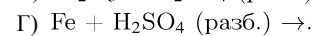
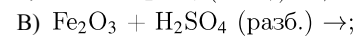
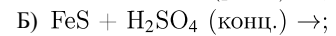
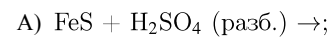
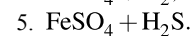
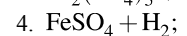
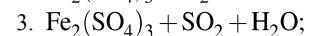
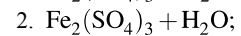
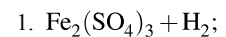


Установите соответствие между реагентами и продуктами реакции: к каждой позиции, обозначенной буквой, подберите соответствующую позицию, обозначенную цифрой.

## РЕАГЕНТЫ



## ПРОДУКТЫ



Запишите в ответ цифры, расположив их в порядке, соответствующем буквам:

| А | Б | В | Г |
|---|---|---|---|
|   |   |   |   |