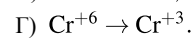
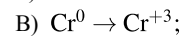
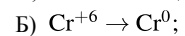
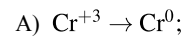
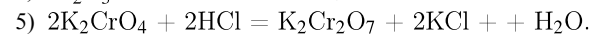
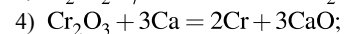
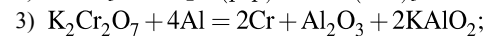
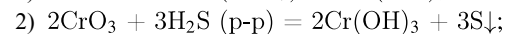
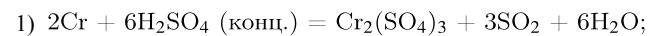


Установите соответствие между схемой изменения степени окисления элемента и уравнением реакции, в которой это изменение происходит: к каждой позиции, обозначенной буквой, подберите соответствующую позицию, обозначенную цифрой.

СХЕМА ИЗМЕНЕНИЯ
СТЕПЕНИ ОКИСЛЕНИЯ



УРАВНЕНИЕ РЕАКЦИИ



Запишите в ответ цифры, расположив их в порядке, соответствующем буквам:

А	Б	В	Г