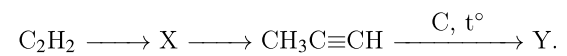
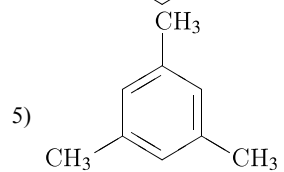
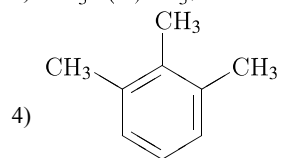


Задана следующая схема превращений веществ:



Определите, какие из указанных веществ являются веществами X и Y:

- 1) $\text{CCH}_2 = \text{CH}_2$;
- 2) $\text{CH}\equiv\text{CNa}$;
- 3) $\text{CH}_3\text{C}(\text{O})\text{CH}_3$;



Запишите в таблицу номера выбранных веществ под соответствующими буквами.

X	Y