
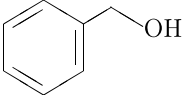
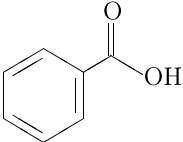
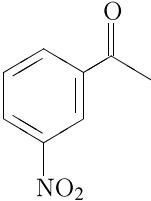
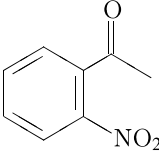


Задана следующая схема превращений веществ:



Определите, какие из указанных веществ являются веществами X и Y:

- 1) 
- 2) 
- 3) 
- 4) 
- 5) 

Запишите в таблицу номера выбранных веществ под соответствующими буквами.

X	Y