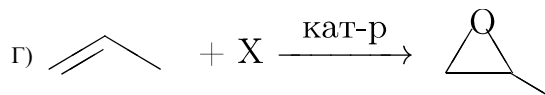
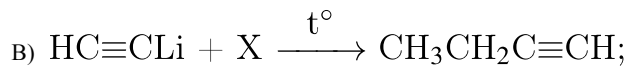
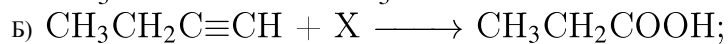
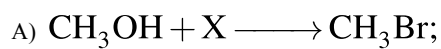


Установите соответствие между схемой реакции и веществом X , принимающим в ней участие: к каждой позиции, обозначенной буквой, подберите соответствующую позицию, обозначенную цифрой.

СХЕМА РЕАКЦИИ

ВЕЩЕСТВО X

- 1) C_2H_4 ; 2) $\text{C}_2\text{H}_5\text{Br}$; 3) H_2O_2 ; 4) $\text{KMnO}_4(\text{H}^+)$; 5) Br_2 ; 6) PBr_3 .

Запишите в ответ цифры, расположив их в порядке, соответствующем буквам:

А	Б	В	Г