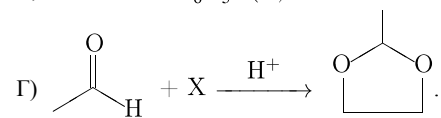
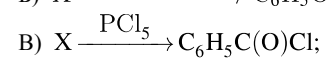
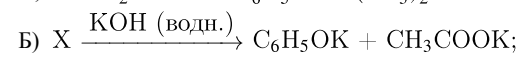
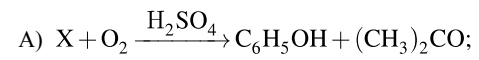
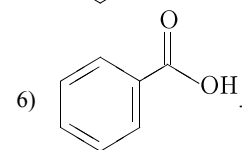
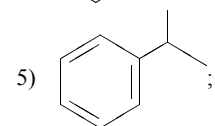
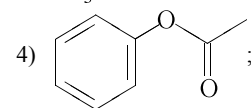
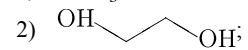
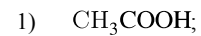


Установите соответствие между схемой реакции и веществом X, принимающим в ней участие: к каждой позиции, обозначенной буквой, подберите соответствующую позицию, обозначенную цифрой.

СХЕМА РЕАКЦИИ



ВЕЩЕСТВО X



Запишите в таблицу выбранные цифры под соответствующими буквами.

А	Б	В	Г