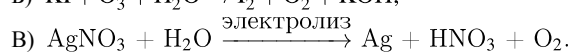
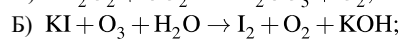
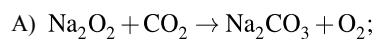


Установите соответствие между схемой окислительно-восстановительной реакции и степенью окисления элемента-окислителя: к каждой позиции, обозначенной буквой, подберите соответствующую позицию, обозначенную цифрой.

## СХЕМА РЕАКЦИИ



## СТЕПЕНЬ ОКИСЛЕНИЯ ОКИСЛИТЕЛЯ

1) -1; 2) 0; 3) +1; 4) +4.

Запишите в таблицу выбранные цифры под соответствующими буквами.

А	Б	В