

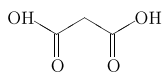
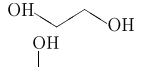
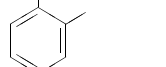
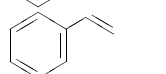
Вариант № 33628

Установите соответствие между тривиальным названием органического вещества и его структурной формулой: к каждой позиции, обозначенной буквой, подберите соответствующую позицию, обозначенную цифрой.

ТРИВИАЛЬНОЕ НАЗВАНИЕ

- А) этиленгликоль;
- Б) малоновая кислота;
- В) стирол.

СТРУКТУРНАЯ ФОРМУЛА

1. 
2. 
3. 
4. 

Запишите в таблицу выбранные цифры под соответствующими буквами.

А	Б	В