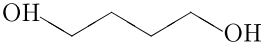
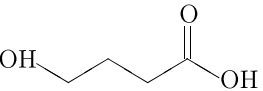
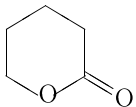


Установите соответствие между формулой вещества и классом/группой органических соединений, к которому(-ой) это вещество принадлежит: к каждой позиции, обозначенной буквой, подберите соответствующую позицию, обозначенную цифрой.

ФОРМУЛА ВЕЩЕСТВА	КЛАСС/ГРУППА ОРГАНИЧЕСКИХ СОЕДИНЕНИЙ
А) 	1) сложные эфиры;
Б) 	2) гидроксикислоты;
В) 	3) двухатомные спирты;
	4) двухосновные кислоты.

Запишите в таблицу выбранные цифры под соответствующими буквами.

А	Б	В