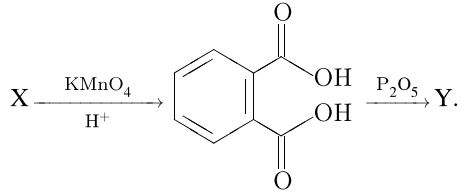
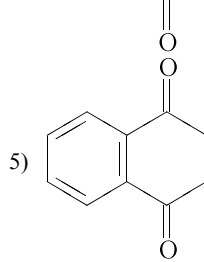
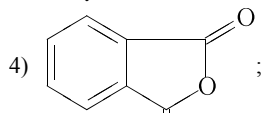
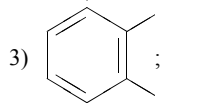
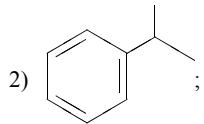
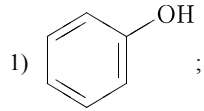


Задана следующая схема превращений веществ:



Определите, какие из указанных веществ являются веществами X и Y:



Запишите в таблицу номера выбранных веществ под соответствующими буквами.

X	Y