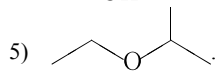
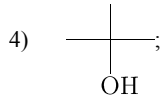
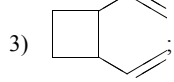
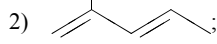
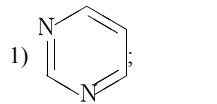


Из предложенного перечня выберите два вещества, в молекулах которых нет разветвленных углеродных скелетов.



Запишите номера выбранных ответов в порядке возрастания.