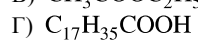
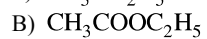
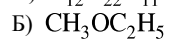
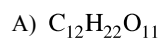


Установите соответствие между формулой вещества и его принадлежностью к определенному (-ой) классу (группе) органических соединений.

ФОРМУЛА ВЕЩЕСТВА

КЛАСС (ГРУППА) ОРГАНИЧЕСКИХ СОЕДИНЕНИЙ



1) сложные эфиры

2) альдегиды

3) спирты

4) карбоновые кислоты

5) углеводы

6) простые эфиры

А	Б	В	Г