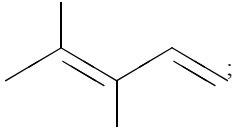
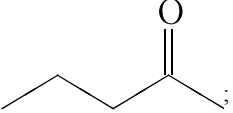
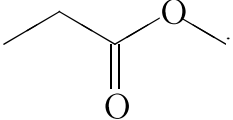


Установите соответствие между структурной формулой вещества и классом/группой, к которому(-ой) это вещество принадлежит: к каждой позиции, обозначенной буквой, подберите соответствующую позицию, обозначенную цифрой.

НАЗВАНИЕ ВЕЩЕСТВА	КЛАСС/ГРУППА ОРГАНИЧЕСКИХ СОЕДИНЕНИЙ
А) 	1) алкины; 2) алкадиены; 3) кетоны; 4) сложные эфиры.
Б) 	
В) 	

Запишите в ответ цифры, расположив их в порядке, соответствующем буквам:

А	Б	В