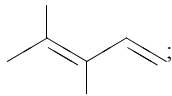


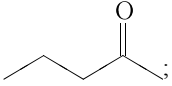
Установите соответствие между структурной формулой вещества и классом/группой, к которому(-ой) это вещество принадлежит: к каждой позиции, обозначенной буквой, подберите соответствующую позицию, обозначенную цифрой.

НАЗВАНИЕ ВЕЩЕСТВА

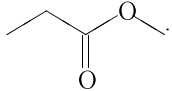
А)



Б)



В)



КЛАСС/ГРУППА ОРГАНИЧЕСКИХ СОЕДИНЕНИЙ

- 1) алкины;
- 2) алкадиены;
- 3) кетоны;
- 4) сложные эфиры.

Запишите в ответ цифры, расположив их в порядке, соответствующем буквам:

А	Б	В