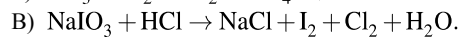
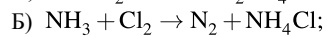
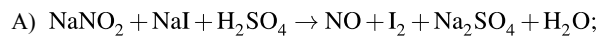


Установите соответствие между схемой окислительно-восстановительной реакции и элементом-окислителем: к каждой позиции, обозначенной буквой, подберите соответствующую позицию, обозначенную цифрой.

## СХЕМА РЕАКЦИИ



## ЭЛЕМЕНТ-ОКИСЛИТЕЛЬ

- 1) хлор;
- 2) азот;
- 3) иод;
- 4) кислород.

Запишите в ответ цифры, расположив их в порядке, соответствующем буквам:

А	Б	В