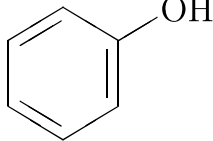
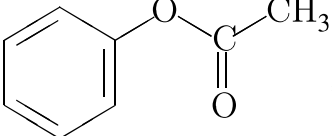
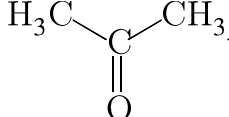


Установите соответствие между структурной формулой вещества и классом/группой, к которому(-ой) это вещество принадлежит.

СТРУКТУРНАЯ ФОРМУЛА	КЛАСС/ГРУППА
А)  ;	1) сложные эфиры; 2) фенолы; 3) альдегиды; 4) кетоны.
Б)  ;	
В)  .	

Запишите в ответ цифры, расположив их в порядке, соответствующем буквам:

А	Б	В