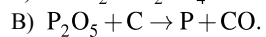
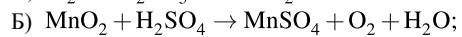
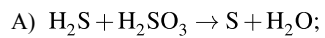
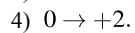
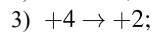
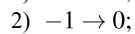
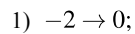


Установите соответствие между схемой окислительно-восстановительной реакции и изменением степени окисления восстановителя: к каждой позиции, обозначенной буквой, подберите соответствующую позицию, обозначенную цифрой.

## СХЕМА ОВР



## ИЗМЕНЕНИЕ СТЕПЕНИ ОКИСЛЕНИЯ ВОССТАНОВИТЕЛЯ



Запишите в таблицу выбранные цифры под соответствующими буквами.

А	Б	В