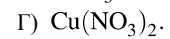
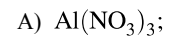
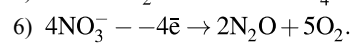
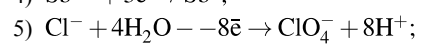
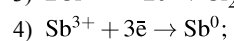
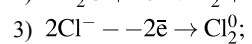
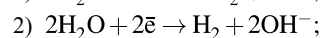
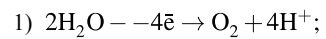


Установите соответствие между формулой соли и уравнением процесса, протекающего на инертном аноде при электролизе ее водного раствора: к каждой позиции, обозначенной буквой, подберите соответствующую позицию, обозначенную цифрой.

ФОРМУЛА СОЛИ



УРАВНЕНИЕ АНОДНОГО ПРОЦЕССА



Запишите в ответ цифры, расположив их в порядке, соответствующем буквам:

А	Б	В	Г