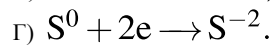
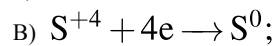
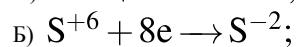
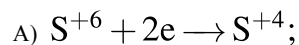
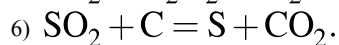
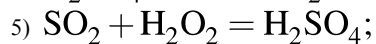
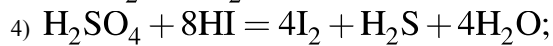
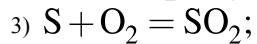
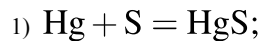


Установите соответствие между схемой реакции восстановления и уравнением реакции: к каждой позиции, обозначенной буквой, подберите соответствующую позицию, обозначенную цифрой.

## СХЕМА РЕАКЦИИ ВОССТАНОВЛЕНИЯ



## УРАВНЕНИЕ РЕАКЦИИ



Запишите в ответ цифры, расположив их в порядке, соответствующем буквам:

А	Б	В	Г