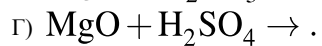
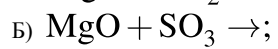
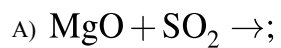
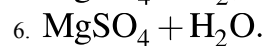
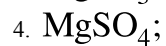
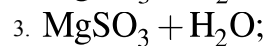
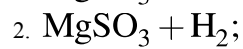


Установите соответствие между реагирующими веществами и продуктами их взаимодействия: к каждой позиции, обозначенной буквой, подберите соответствующую позицию, обозначенную цифрой.

РЕАГИРУЮЩИЕ ВЕЩЕСТВА



ПРОДУКТЫ ВЗАИМОДЕЙСТВИЯ



Запишите в ответ цифры, расположив их в порядке, соответствующем буквам:

А	Б	В	Г