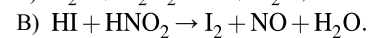
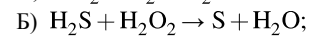
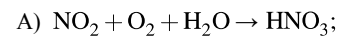


Установите соответствие между схемой окислительно-восстановительной реакции и степенью окисления восстановителя.

СХЕМА ОВР



СТЕПЕНЬ ОКИСЛЕНИЯ ВОССТАНОВИТЕЛЯ

1) -2;

2) -1;

3) 0;

4) +4.

Запишите в таблицу выбранные цифры под соответствующими буквами.

А	Б	В