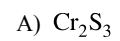


Установите соответствие между формулой соли и отношением этой соли к гидролизу.

ФОРМУЛА СОЛИ

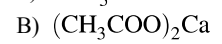
ОТНОШЕНИЕ К ГИДРОЛИЗУ



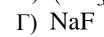
1) гидролизуется по катиону



2) гидролизуется по аниону



3) не гидролизуется



4) гидролизуется как по катиону, так и по аниону

Запишите в таблицу выбранные цифры под соответствующими буквами.

А	Б	В	Г