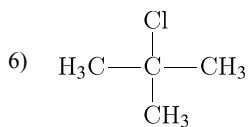
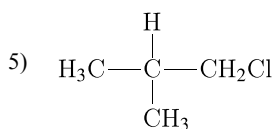
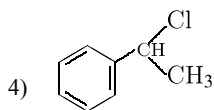
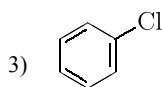
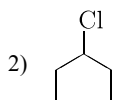
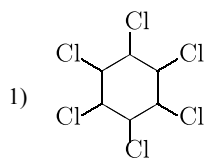


Установите соответствие между названием углеводорода и продуктом, который преимущественно образуется при его взаимодействии с хлором на свету или при нагревании.

НАЗВАНИЕ ВЕЩЕСТВА

- А) 2-метилпропан;
- Б) этилбензол;
- В) бензол;
- Г) циклопентан.

ПРОДУКТЫ РЕАКЦИИ



Запишите в таблицу выбранные цифры под соответствующими буквами.

А	Б	В	Г