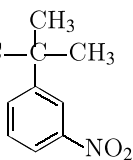
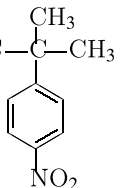
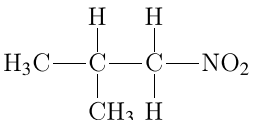
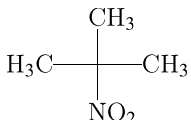
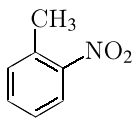


Установите соответствие между названием углеводорода и продуктом, который преимущественно образуется при его взаимодействии с азотной кислотой.

НАЗВАНИЕ ВЕЩЕСТВА

- А) метан;
- Б) 2-метилпропан;
- В) толуол;
- Г) *трет*-бутилбензол.

ПРОДУКТЫ РЕАКЦИИ

- 1) 
- 2) 
- 3) 
- 4) 
- 5) 
- 6)  $\text{CH}_3\text{NO}_2$

Запишите в таблицу выбранные цифры под соответствующими буквами.

А	Б	В	Г